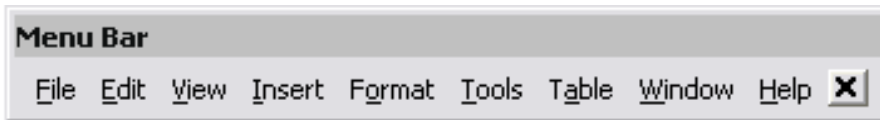


ใบงานที่ 1.2

ส่วนประกอบของ Microsoft Word

1. จงอธิบายความหมายของแต่ละเครื่องมือจากภาพต่อไปนี้

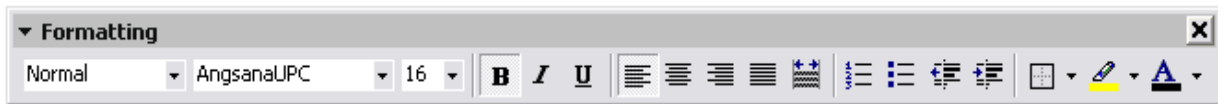
- ชื่อแถบเครื่องมือ.....



- ชื่อแถบเครื่องมือ.....

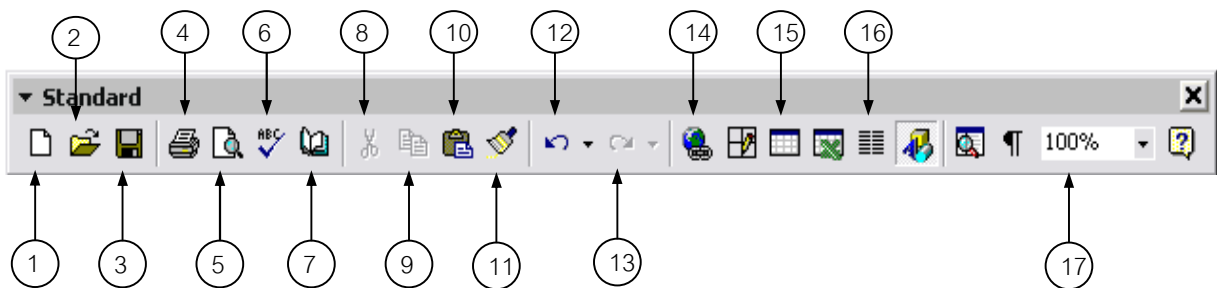


- ชื่อแถบเครื่องมือ.....



3/3

2. จงอธิบายความหมายของสัญลักษณ์ ตามลำดับหมายเลข ต่อไปนี้



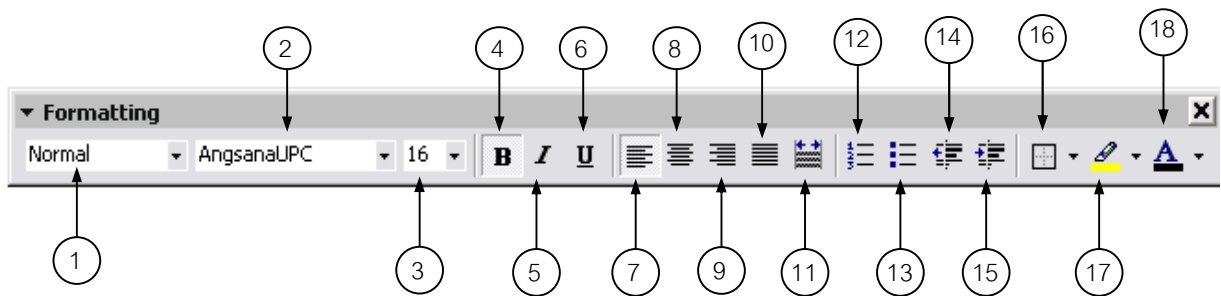
-
-
-
-
-
-
-

ใบงานที่ 1.2

ส่วนประกอบของ Microsoft Word

8.
9.
10.
11.
12.
13.
14.
15.
16.
17.

3. จงอธิบายความหมายของสัญลักษณ์ ตามลำดับหมายเลข ต่อไปนี้



- | | |
|---------|----------|
| 1. | 10. |
| 2. | 11. |
| 3. | 12. |
| 4. | 13. |
| 5. | 14. |
| 6. | 15. |
| 7. | 16. |
| 8. | 17. |
| 9. | 18. |

ใบงานที่ 1.2
ส่วนประกอบของ Microsoft Word